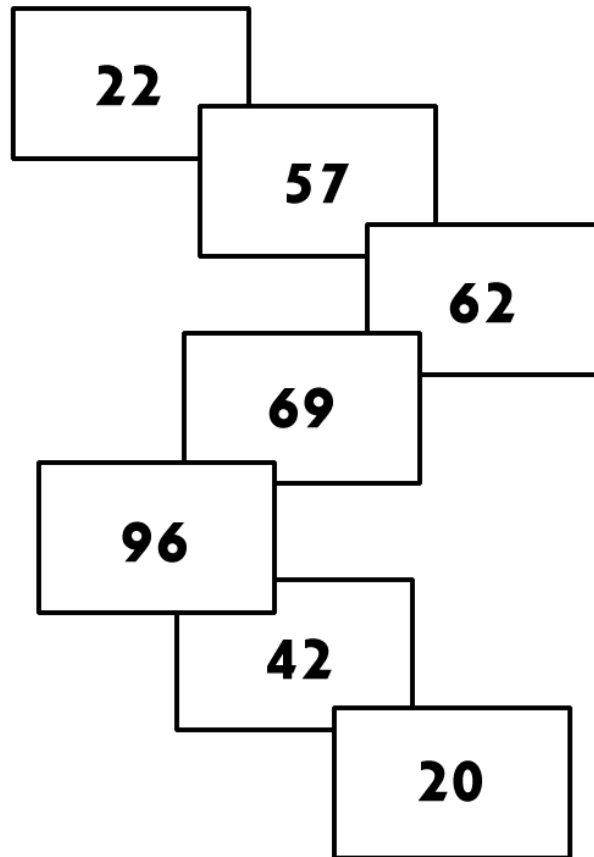



NOME: _____

TURMA: _____

ATIVIDADES DE MATEMÁTICA

1) AJUDE O ÍNDIOZINHO RAONI A CHEGAR A SUA OCA PINTANDO OS RETÂNGULOS DE ACORDO COM A LEGENDA:



LEGENDA

AZUL	SUCESSOR DE 56
AMARELO	ANTECESSOR DE 97
PRETO	ANTECESSOR DE 70
LARANJA	ANTECESSOR DE 43
VERMELHO	NÚMERO QUE TEM DOIS ALGARISMOS IGUAIS
VERDE	DEZENA EXATA
ROXO	SUCESSOR DE 61



2) QUAL FORMA GEOMÉTRICA É MAIS PARECIDA COM O DESENHO DA OCA?




TRIÂNGULO



RETÂNGULO



QUADRADO



CÍRCULO

