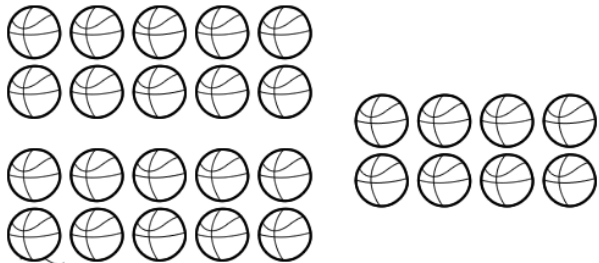


NOME: _____

TURMA: _____

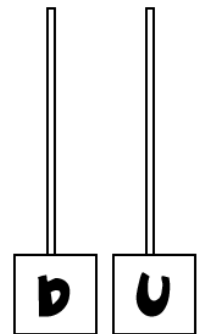
ATIVIDADES DE MATEMÁTICA

1) Conte de 10 em 10 e registre a quantidade de bolas no ábaco.

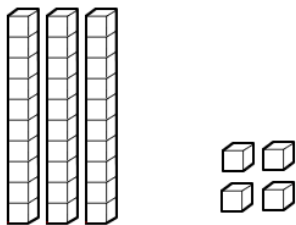


DEZENAS E UNIDADES

COMO SE LÊ?

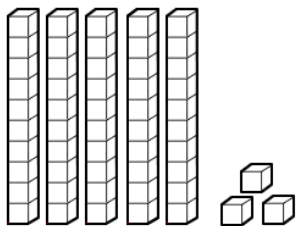


1) Escreva com algarismo e com palavras as quantidades representadas em cada conjunto de peças do Material Dourado.



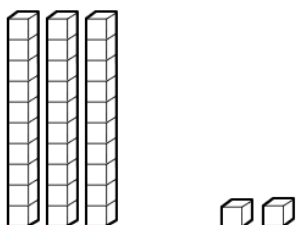
DEZENAS E UNIDADES

COMO SE LÊ?



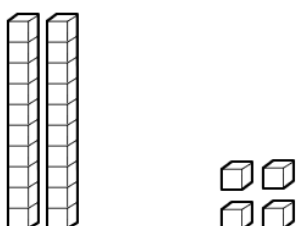
DEZENAS E UNIDADES

COMO SE LÊ?



DEZENAS E UNIDADES

COMO SE LÊ?



DEZENAS E UNIDADES

COMO SE LÊ?

