

NOME: _____

TURMA: _____

ATIVIDADES DE MATEMÁTICA

1) Ontem foi aniversário do nosso amigo Binho. Ele ganhou um dinheiro do seu avô como presente por essa data tão especial. Você pode ajudá-lo a contar e descobrir o quanto de grana ele tem?

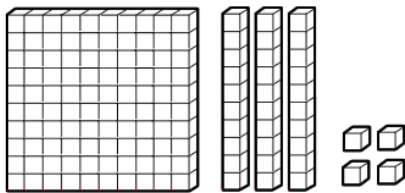


a. Quanto dinheiro ele tem?

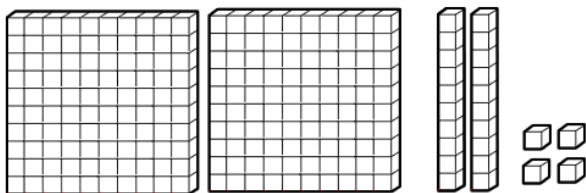
b. Como se representaria isso em algarismos?

CENTENA, DEZENAS E
 UNIDADES

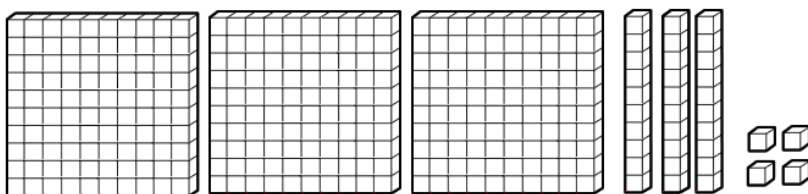
2) Escreva com algarismo as quantidades representadas em cada conjunto de peças do Material Dourado.



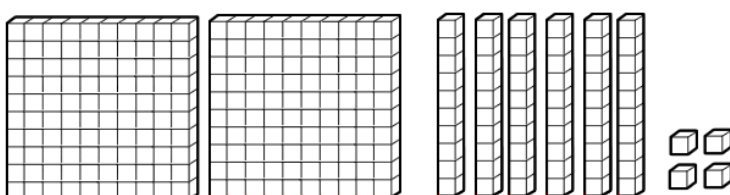
CENTENA, DEZENAS E
 UNIDADES



CENTENA, DEZENAS E
 UNIDADES



CENTENA, DEZENAS E
 UNIDADES



CENTENA, DEZENAS E
 UNIDADES